

Муниципальное бюджетное общеобразовательное учреждение
Субботинская средняя общеобразовательная школа имени Героя Советского
Союза С.У.Кривенко.

УТВЕРЖДЕНА
приказом МБОУ Субботинская СОШ
им. Героя Советского Союза С.У.Кривенко
от «31» августа 2021 года
№ / о/д

Рабочая программа
по астрономии 11 класса
(базовый уровень)

Срок действия программы: 1 год

Разработчик программы
Свиридкина Оксана Анатольевна
Учитель физики первая кк

Рассмотрено на заседании ШМО

Протокол от «__» _____ 2021г. № _____

Руководитель ШМО Фетисова А.И.

І. Пояснительная записка

Рабочая программа по астрономии на 2021/22 учебный год для обучающихся 11 класса МБОУ Субботинская СОШ им. Героя Советского Союза С.У.Кривенко разработана в соответствии с требованиями:

- Федерального закона от 29.12.2012 № 273-ФЗ «Об образовании в Российской Федерации»;
- приказа Минпросвещения от 28.08.2020 № 442 «Об утверждении Порядка организации и осуществления образовательной деятельности по основным общеобразовательным программам – образовательным программам начального общего, основного общего и среднего общего образования» (распространяется на правоотношения до 1 сентября 2021 года);
- приказа Минпросвещения от 22.03.2021 № 115 «Об утверждении Порядка организации и осуществления образовательной деятельности по основным общеобразовательным программам – образовательным программам начального общего, основного общего и среднего общего образования» (распространяется на правоотношения с 1 сентября 2021 года);
- ФГОС среднего общего образования, утвержденным [приказом Минобрнауки от 17.05.2012 № 413](#);
- СП 2.4.3648-20 «Санитарно-эпидемиологические требования к организациям воспитания и обучения, отдыха и оздоровления детей и молодежи», утвержденных постановлением главного государственного санитарного врача России от 28.09.2020 № 28 (действуют с 1 января 2021 года);
- СанПиН 1.2.3685-21 «Гигиенические нормативы и требования к обеспечению безопасности и (или) безвредности для человека факторов среды обитания», утвержденных постановлением главного санитарного врача от 28.01.2021 № 2 (действуют с 1 марта 2021 года);
- **концепции преподавания физике в Российской Федерации**, утвержденной распоряжением Правительства от 09.04.2016 № 637
- учебного плана основного общего образования МБОУ Субботинская СОШ им. Героя Советского Союза С.У.Кривенко
- рабочей программы воспитания

Программа разработана во исполнение пункта 1 Цели № 1 распоряжения Минпросвещения России от 15.02.2019 № Р-8 «Об утверждении ведомственной целевой программы "Развитие современных механизмов и технологий дошкольного и общего образования"».

Место учебного предмета в учебном плане.

Изучение курса рассчитано на 34 часа. Важную роль в освоении курса играют проводимые во внеурочное время собственные наблюдения учащихся. Специфика планирования этих наблюдений определяется двумя обстоятельствами. Во-первых, они (за исключением наблюдений Солнца) должны проводиться в вечернее или ночное время. Во-вторых, объекты, природа которых изучается на том или ином уроке, могут быть в это время недоступны для наблюдений. При планировании наблюдений этих объектов, в особенности, планет, необходимо учитывать условия их видимости.

Оценочные средства (оценочные материалы) и методические материалы рабочей программы по астрономии.

Класс/Программа	Перечень используемых оценочных средств (оценочных материалов)/КИМы*	Перечень используемых методических материалов
-----------------	----------------------------------------------------------------------	-----------------------------------------------

Программа Астрономия 10-11 классы. Авторы программы: Б.А. Воронцов- Вельяминов, Е.К.Страут М.: Дрофа, 2018г.	Проверочные и контрольные работы 10-11классы. Базовый уровень. Н.Н.Гомулина «Дрофа» 2019	Учебник: «Астрономия. Базовый уровень. 11 класс» Б.А. Воронцов- Вельяминов, Е.К.Страут М.: Дрофа, 2018г.
-----------------------------------------------------------------------------------------------------------------------------------	---------------------------------------------------------------------------------------------------	-------------------------------------------------------------------------------------------------------------------

II. Планируемые результаты изучения учебного предмета.

Личностные результаты:

- формирование умения управлять своей познавательной деятельностью, ответственное отношение к учению, готовность и способность к саморазвитию и самообразованию, а также осознанному построению индивидуальной образовательной деятельности на основе устойчивых познавательных интересов;
- формирование познавательной и информационной культуры, в том числе навыков самостоятельной работы с книгами и техническими средствами информационных технологий;
 - формирование убежденности в возможности познания законов природы и их использования на благо развития человеческой цивилизации;
- формирование умения находить адекватные способы поведения, взаимодействия и сотрудничества в процессе учебной и внеурочной деятельности, проявлять уважительное отношение к мнению оппонента в ходе обсуждения спорных проблем науки.

Метапредметные результаты:

- находить проблему исследования, ставить вопросы, выдвигать гипотезу, предлагать альтернативные способы решения проблемы и выбирать из них наиболее эффективный;
- классифицировать объекты исследования, структурировать изучаемый материал, аргументировать свою позицию, формулировать выводы и заключения;
- анализировать наблюдаемые явления и объяснять причины их возникновения;
- на практике пользоваться основными логическими приемами, методами наблюдения, моделирования, мысленного эксперимента, прогнозирования;
- выполнять познавательные и практические задания, в том числе проектные;
- извлекать информацию из различных источников (включая средства массовой информации и интернет-ресурсы) и критически ее оценивать;
- готовить сообщения и презентации с использованием материалов, полученных из Интернета и других источников.

Предметные результаты

В результате изучения учебного предмета «Астрономия» на уровне среднего общего образования

: Выпускник на базовом уровне научится:

1. понимать смысл понятий: активность, астероид, астрономия, астрология, астрофизика, атмосфера, болид, возмущения, восход светила, вращение небесных тел, Вселенная, вспышка, галактика, горизонт, гранулы, затмение, виды звезд, зодиак, календарь, космогония, космология, космонавтика, космос, кольца планет, кометы, кратер, кульминация, основные точки, линии и плоскости небесной сферы, магнитная буря, Метагалактика, метеор, метеорит, метеорное тело, дождь, поток, Млечный Путь, моря и материки на Луне, небесная механика, видимое и реальное движение небесных тел и их систем, обсерватория, орбита, планета, полярное сияние, протуберанец, скопление, созвездия (и их классификация), солнечная корона, солнцестояние, состав Солнечной системы, телескоп, терминатор, туманность, фазы Луны, фотосферные факелы, хромосфера, черная дыра, эволюция, эклиптика, ядро;

2. знать определения физических величин: астрономическая единица, афелий, блеск звезды, возраст небесного тела, параллакс, парсек, период, перигелий, физические характеристики планет и звезд, их химический состав, звездная величина, радиант, радиус светила, космические расстояния, светимость, световой год, сжатие планет, синодический и сидерический период, солнечная активность, солнечная постоянная, спектр светящихся тел Солнечной системы;

3. знать и объяснять смысл работ и формулировку законов: Аристотеля, Птолемея, Галилея, Коперника, Бруно, Ломоносова, Гершеля, Браге, Кеплера, Ньютона, Леверье, Адамса, Галлея, Белопольского, Бредихина, Струве, Герцшпрунга-Рассела, Амбар-цумяна, Барнарда, Хаббла, Доплера, Фридмана, Эйнштейна;

Выпускник на базовом уровне получит возможность научиться:

1. вести наблюдения.
2. использовать карту звездного неба для нахождения координат светила;
3. выражать результаты измерений и расчетов в единицах Международной системы;
4. приводить примеры практического использования астрономических знаний о небесных телах и их системах;
5. решать задачи на применение изученных астрономических законов;
6. осуществлять самостоятельный поиск информации естественнонаучного содержания с использованием различных источников, ее обработку и представление в разных формах

Примерный перечень наблюдений

Наблюдения невооруженным глазом.

1. Основные созвездия и наиболее яркие звезды осеннего, зимнего и весеннего неба. Изменение их положения с течением времени.
2. Движение Луны и смена ее фаз.

III. Содержание курса астрономии 11 класса (34 ч, 1 ч в неделю).

Что изучает астрономия. Наблюдения — основа астрономии

(2 ч)

Астрономия, ее связь с другими науками. Структура масштабы Вселенной. Особенности астрономических методов исследования. Телескопы и радиотелескопы. Всеволновая астрономия.

Демонстрации.

1. портреты выдающихся астрономов;
2. изображения объектов исследования в астрономии.

Предметные результаты освоения темы позволяют:

- воспроизводить сведения по истории развития астрономии, ее связях с физикой и математикой;
- использовать полученные ранее знания для объяснения устройства и принципа работы телескопа.

Практические основы астрономии (5 ч)

Звезды и созвездия. Звездные карты, глобусы и атласы. Видимое движение звезд на различных географических широтах. Кульминация светил. Видимое годовое движение Солнца. Эклиптика. Движение и фазы Луны. Затмения Солнца и Луны. Время и календарь.

Предметные результаты изучения данной темы позволяют:

- воспроизводить определения терминов и понятий (созвездие, высота и кульминация звезд и Солнца, эклиптика, местное, поясное, летнее и зимнее время);
- объяснять необходимость введения високосных лет и нового календарного стиля;
- объяснять наблюдаемые невооруженным глазом движения звезд и Солнца на различных географических широтах, движение и фазы Луны, причины затмений Луны и Солнца;
- применять звездную карту для поиска на небе определенных созвездий и звезд.

Демонстрации.

1. географический глобус Земли;
2. карта звездного неба;
3. звездные карты;
4. звездные каталоги;
5. карта часовых поясов;
6. модель небесной сферы;
7. разные виды часов (их изображения);

Строение Солнечной системы (7 ч)

Развитие представлений о строении мира. Геоцентрическая система мира. Становление гелиоцентрической системы мира. Конфигурации планет и условия их видимости. Синодический и сидерический (звездный) периоды обращения планет. Законы Кеплера. Определение расстояний и размеров тел в Солнечной системе. Горизонтальный параллакс. Движение небесных тел под действием сил тяготения. Определение массы небесных тел. Движение искусственных спутников Земли и космических аппаратов в Солнечной системе.

Предметные результаты освоения данной темы позволяют:

- воспроизводить исторические сведения о становлении развитии гелиоцентрической системы мира;
- воспроизводить определения терминов и понятий (конфигурация планет, синодический и сидерический периоды обращения планет, горизонтальный параллакс, угловые размеры объекта, астрономическая единица);
- вычислять расстояние до планет по горизонтальному параллаксу, а их размеры по угловым размерам и расстоянию;
- формулировать законы Кеплера, определять массы планет на основе третьего (уточненного) закона Кеплера;
- описывать особенности движения тел Солнечной системы под действием сил тяготения по орбитам с различным эксцентриситетом;
- объяснять причины возникновения приливов на Земле возмущений в движении тел Солнечной системы;
- характеризовать особенности движения и маневров космических аппаратов для исследования тел Солнечной системы.

Демонстрации.

1. динамическая модель Солнечной системы;
2. изображения видимого движения планет, планетных конфигураций;
3. портреты Птолемея, Коперника, Кеплера, Ньютона;
4. схема Солнечной системы;
5. фотоизображения Солнца и Луны во время затмений.

Природа тел Солнечной системы (8 ч)

Солнечная система как комплекс тел, имеющих общее происхождение. Земля и Луна — двойная планета. Исследования Луны космическими аппаратами. Пилотируемые полеты на Луну. Планеты земной группы. Природа Меркурия, Венеры и Марса. Планеты-гиганты, их спутники кольца. Малые тела Солнечной системы: астероиды, планеты-карлики, кометы, метеороиды. Метеоры, болиды и метеориты.

Предметные результаты изучение темы позволяют:

- формулировать и обосновывать основные положения современной гипотезы о формировании всех тел Солнечной системы из единого газопылевого облака;
- определять и различать понятия (Солнечная система, планета, ее спутники, планеты земной группы, планеты-гиганты, кольца планет, малые тела, астероиды, планеты-карлики, кометы, метеороиды, метеоры, болиды, метеориты);
- описывать природу Луны и объяснять причины ее отличия от Земли;
- перечислять существенные различия природы двух групп планет и объяснять причины их возникновения;
- проводить сравнение Меркурия, Венеры и Марса с Землей по рельефу поверхности и составу атмосфер, указывать следы эволюционных изменений природы этих планет;
- объяснять механизм парникового эффекта и его значение для формирования и сохранения уникальной природы Земли;
- описывать характерные особенности природы планет-гигантов, их спутников и колец;

- характеризовать природу малых тел Солнечной системы и объяснять причины их значительных различий;
- описывать явления метеора и болида, объяснять процессы, которые происходят при движении тел, влетающих в атмосферу планеты с космической скоростью;
- описывать последствия падения на Землю крупных метеоритов;
- объяснять сущность астероидно-кометной опасности, возможности и способы ее предотвращения.

Демонстрации.

1. глобус Луны и Марса;
2. динамическая модель Солнечной системы;
3. изображения межпланетных космических аппаратов;
4. изображения объектов Солнечной системы;
5. космические снимки малых тел Солнечной системы;
6. космические снимки планет Солнечной системы;
7. таблицы физических и орбитальных характеристик планет Солнечной системы;
8. фотография поверхности Луны.

Солнце и звезды (6 ч)

Излучение и температура Солнца. Состав и строение Солнца. Источник его энергии. Атмосфера Солнца. Солнечная активность и ее влияние на Землю. Звезды — далекие солнца. Годичный параллакс и расстояния до звезд. Светимость, спектр, цвет и температура различных классов звезд. Диаграмма «спектр—светимость». Массы и размеры звезд. Модели звезд. Переменные и нестационарные звезды. Цефеиды — маяки Вселенной. Эволюция звезд различной массы.

Предметные результаты освоения темы позволяют:

- определять и различать понятия (звезда, модель звезды, светимость, парсек, световой год);
- характеризовать физическое состояние вещества Солнца и звезд и источники их энергии;
- описывать внутреннее строение Солнца и способы передачи энергии из центра к поверхности;
- объяснять механизм возникновения на Солнце грануляции и пятен;
- описывать наблюдаемые проявления солнечной активности и их влияние на Землю;
- вычислять расстояние до звезд по годичному параллаксу;
- называть основные отличительные особенности звезд различных последовательностей на диаграмме «спектр — светимость»;
- сравнивать модели различных типов звезд с моделью Солнца;
- объяснять причины изменения светимости переменных звезд;
- описывать механизм вспышек Новых и Сверхновых;
- оценивать время существования звезд в зависимости от их массы;
- описывать этапы формирования и эволюции звезды;
 - характеризовать физические особенности объектов, возникающих на конечной стадии эволюции звезд: белых карликов, нейтронных звезд и черных дыр.

Демонстрации.

1. диаграмма Герцшпрунга – Рассела;

2. схема внутреннего строения звезд;
3. схема внутреннего строения Солнца;
4. схема эволюционных стадий развития звезд на диаграмме Герцшпрунга – Рассела;
5. фотографии активных образований на Солнце, атмосферы и короны Солнца;
6. фотоизображения взрывов новых и сверхновых звезд;
7. фотоизображения Солнца и известных звезд.

Строение и эволюция Вселенной (5 ч)

Наша Галактика. Ее размеры и структура. Два типа населения Галактики. Межзвездная среда: газ и пыль. Спиральные рукава. Ядро Галактики. Области звездообразования. Вращение Галактики. Проблема «скрытой» массы. Разнообразие мира галактик. Квазары. Скопления и сверхскопления галактик. Основы современной космологии. «Красное смещение» и закон Хаббла. Нестационарная Вселенная А. А. Фридмана. Большой взрыв. Реликтовое излучение. Ускорение расширения Вселенной. «Темная энергия» и антитяготение.

Предметные результаты изучения темы позволяют:

- объяснять смысл понятий (космология, Вселенная, модель Вселенной, Большой взрыв, реликтовое излучение);
- характеризовать основные параметры Галактики (размеры, состав, структура и кинематика);
- определять расстояние до звездных скоплений и галактик по цефеидам на основе зависимости «период — светимость»;
- распознавать типы галактик (спиральные, эллиптические, неправильные);
- сравнивать выводы А. Эйнштейна и А. А. Фридмана относительно модели Вселенной;
- обосновывать справедливость модели Фридмана результатами наблюдений «красного смещения» в спектрах галактик;
- формулировать закон Хаббла;
- определять расстояние до галактик на основе закона Хаббла; по светимости Сверхновых;
- оценивать возраст Вселенной на основе постоянной Хаббла;
- интерпретировать обнаружение реликтового излучения как свидетельство в пользу гипотезы Горячей Вселенной;
- классифицировать основные периоды эволюции Вселенной с момента начала ее расширения — Большого взрыва;
- интерпретировать современные данные об ускорении расширения Вселенной как результата действия антитяготения «темной энергии» — вида материи, природа которой еще неизвестна.

Демонстрации.

1. изображения радиотелескопов и космических аппаратов, использованных для поиска жизни во Вселенной;
2. схема строения Галактики;
3. схемы моделей Вселенной;
4. таблица - схема основных этапов развития Вселенной;
5. фотографии звездных скоплений и туманностей;
6. фотографии Млечного Пути;
7. фотографии разных типов галактик.

Жизнь и разум во Вселенной (2 ч)

Проблема существования жизни вне Земли. Условия, необходимые для развития жизни. Поиски жизни на планетах Солнечной системы. Сложные органические соединения в космосе. Современные возможности космонавтики радиоастрономии для связи с другими цивилизациями. Планетные системы у других звезд. Человечество заявляет о своем существовании.

Предметные результаты позволяют:

- систематизировать знания о методах исследования и современном состоянии проблемы существования жизни во Вселенной.

IV. Тематическое планирование с указанием количества часов, отводимых на освоение каждой темы

Тематическое планирование по физике для 11-го класса составлено с учетом рабочей программы воспитания. Воспитательный потенциал данного учебного предмета обеспечивает реализацию следующих целевых приоритетов воспитания обучающихся:

1. Развитие ценностного отношения к труду как основному способу достижения жизненного благополучия человека, залогом его успешного профессионального самоопределения и ощущения уверенности в завтрашнем дне.
2. Развитие ценностного отношения к природе как источнику жизни на Земле, основе самого ее существования, нуждающейся в защите и постоянном внимании со стороны человека.
3. Развитие ценностного отношения к знаниям как интеллектуальному ресурсу, обеспечивающему будущее человека, как результату кропотливого, но увлекательного учебного труда.

№ п/п	Тема (глава)	Количество часов
1	Что изучает астрономия. Наблюдения — основа астрономии	2ч
2	Практические основы астрономии	5ч
3	Строение Солнечной системы	7ч
4	Природа тел Солнечной системы	8ч
5	Солнце и звезды	6ч
6	Строение и эволюция Вселенной	5ч
7	Жизнь и разум во Вселенной	1ч
	ИТОГО	34

ПЕРЕЧЕНЬ КОНТРОЛЬНЫХ РАБОТ

№ п/п	Тема	Кол-во часов	Сроки проведения
1	Практические основы астрономии	1	
2	« Строение Солнечной системы »	1	
3	« Природа тел Солнечной системы »	1	
4	« Солнце и звезды »	1	
5	« Строение и эволюция Вселенной »	1	

ИТОГО

5

2.

Укажите, какой из следующих фактов опровергает гипотезу о неподвижности Земли и движении Солнца вокруг нее.

- А) Ежедневная кульминация Солнца.
- Б) Движение звезд, наблюдаемое в течение ночи.
- В) Движение Солнца на фоне звезд, происходящее в течение года.
- Г) Ни один из этих фактов.

3.

На каком расстоянии должна находиться звезда, чтобы ее видимая звездная величина была равна абсолютной звездной величине?

- А) 1 пк
- Б) 10 пк
- В) 100 пк
- Г) 1000 пк

4.

На какой картинке изображена Наша Галактика – Млечный Путь?



А)



Б)



В)



Г)

Часть 2





При выполнении заданий с кратким ответом (задания 5-8) необходимо записать ответ в указанном в тексте задания месте.

Ответом к каждому из заданий 5-7 будет некоторая последовательность цифр. В тетради запишите номер вопроса и последовательность цифр – номера выбранных ответов. Каждую цифру пишите в отдельной клеточке.

5.

Установите соответствие (логическую пару). К каждому названию созвездия, отмеченному буквой, подберите соответствующее изображение, обозначенное цифрой. Запишите в таблицу выбранные цифры под соответствующими буквами.

НАЗВАНИЕ СОЗВЕЗДИЯ	ИЗОБРАЖЕНИЕ
А. Орел	1.

	
Б. Большая Медведица	2. 
В. Цефей	3. 
Г. Дракон	4. 

Ответ:

А	Б	В	Г

6. Расположите угловые координаты светил в порядке их *возрастания*. Запишите в

таблицу получившуюся последовательность цифр ответа.

1) $15^{\circ}12^{\text{M}}$

2) $5^{\circ}24^{\text{M}}$

3) 90°

4) $89^{\circ}40'$

Ответ:

7. Рассмотрите таблицу, содержащую сведения о ярких звездах:

Наименование звезды	Температура, К	Масса (в массах Солнца)	Радиус (в радиусах Солнца)	Плотность по отношению к плотности воды
Антарес	3 300	18	560	$1,5 \cdot 10^{-7}$
Арктур	4 100	4,2	26	$3 \cdot 10^{-4}$
Вега	9 500	2,8	3,0	0,14
Сириус В	8 200	1	$2 \cdot 10^{-2}$	$1,75 \cdot 10^6$
Ригель	11 200	40	138	$2 \cdot 10^{-5}$
α Центавра	5 730	1,02	1,2	0,80
70 Змееносца	4 900	0,8	0,89	2,2
40 Эридана	10 000	0,44	$1,7 \cdot 10^{-2}$	$1,25 \cdot 10^8$

Выберите два утверждения, которые соответствуют характеристикам звезд.

- 1) Звезды Антарес и Ригель являются сверхгигантами.
- 2) Звезда Арктур относится к голубым звездам спектрального класса О.
- 3) Звезда Сириус В относится к звездам главной последовательности на диаграмме Герцшпрунга-Рассела.
- 4) Температура поверхности Веги ниже температуры поверхности Солнца.
- 5) Звезда 40 Эридана относится к белым карликам.

Ответ:

Ответом к заданию 8 является число. В тетради запишите номер вопроса и полученный ответ. Каждую цифру пишите в отдельной клеточке. Единицы измерения астрономических величин писать не нужно.

8. Вычислите большую полуось планеты Марс, если ее синодический период равен 780 сут. Ответ выразите в астрономических единицах и округлите до десятых.

Ответ: _____ а.е.

Часть 3

Для ответа на задания части 3 (задания 9-10) используйте тетрадь для контрольных работ. Запишите сначала номер задания, а затем развернутый ответ на него.

Задание 9 представляет собой вопрос, на который необходимо дать письменный ответ. Полный ответ должен включать в себя не только ответ на вопрос, но и его развернутое логически связанное обоснование. При необходимости сделайте рисунок. Ответ записывайте четко и разборчиво.

9. Чем объясняется отсутствие атмосферы у планеты Меркурий?

Для задания 10 необходимо записать полное решение, которое включает запись краткого условия

задачи (Дано); рисунок; запись формул, применение которых необходимо и достаточно для решения задачи; а также математические преобразования и расчеты, приводящие к числовому ответу.

10.

Какой угловой диаметр должно иметь солнечное пятно, чтобы его линейный диаметр равнялся радиусу Земли? Ответ запишите в угловых секундах.

Итоговая контрольная работа по астрономии

Вариант № 2

Инструкция по выполнению работы

На выполнение контрольной работы по астрономии отводится 45 минут. Работа состоит из 3-х частей и включает 10 заданий.

Часть 1 содержит 4 задания (1–4). К каждому заданию приводится 4 варианта ответа, из которых только 1 верный. При выполнении задания части 1 в тетради для контрольных работ сделайте запись: «Часть 1», проставьте номера заданий по порядку и запишите номер выбранного ответа в контрольной работе. Если вы выбрали не тот номер, то зачеркните этот номер крестиком, а рядом поставьте номер правильного ответа.

Часть 2 включает 4 задания с кратким ответом (5–8). При выполнении заданий части 2 ответ записывается в тетради для контрольных работ. При этом делается запись: «Часть 2», проставляются номера заданий по порядку и записывается последовательность цифр ответа. В случае записи неверного ответа зачеркните его и запишите рядом новый.

Часть 3 содержит 2 задания (9–10), на которые следует дать развернутый ответ. Ответы на задания части 3 записываются в тетради для контрольных работ, после записи: «Часть 3». При выполнении заданий части 2 и 3 значение искомой величины следует записать в тех единицах, которые указаны в условии задания. Если такого указания нет, то значение величины следует записать в Международной системе единиц (СИ).

При вычислениях разрешается использовать непрограммируемый калькулятор.

При выполнении заданий можно пользоваться черновиком. Записи в черновике не учитываются при оценивании работы.

Советуем выполнять задания в том порядке, в котором они даны. С целью экономии времени пропускайте задание, которое не удаётся выполнить сразу, и переходите к следующему. Если после выполнения всей работы у вас останется время, то можно вернуться к пропущенным заданиям.

За каждый правильный ответ в «Части 1» дается 1 балл, в «Части 2» 1–2 балла, в «Части 3» – от 1 до 3 баллов. Баллы, полученные вами за все выполненные задания, суммируются. Максимальное количество баллов 18.

Отметка 5 ставится за более 88% выполненной работы (16–18 баллов).

Отметка 4 ставится за более 70% выполненной работы (13–15 баллов).

Отметка 3 ставится за более 55% выполненной работы (10–12 баллов).

Постарайтесь выполнить как можно больше заданий и набрать как можно большее количество баллов.

Желаем успеха!

Ниже приведены справочные данные, которые могут понадобиться вам при выполнении работы.

Наиболее важные величины, встречающиеся в астрономии	
Видимый угловой диаметр Солнца и Луны	0,5°
Продолжительность звездного года (период обращения Земли вокруг Солнца)	365 сут 5 ч 49 мин
Продолжительность синодического месяца (период изменения фаз Луны)	29,5 сут
Продолжительность звездного месяца (период обращения Луны вокруг Земли)	27,3 сут
Средний радиус Земли	6 370 км
Среднее расстояние от Земли до Луны	384 000 км
Среднее расстояние от Земли до Солнца	150 млн км
1 парсек	206265 а.е. = 3,26 св. года = $3 \cdot 10^{13}$ км

Часть 1

К каждому из заданий 1-4 даны 4 варианта ответа, из которых только 1 правильный. Номер этого ответа запишите в тетради.

1. Какой объект имеет экваториальные координаты $\alpha = 15^{\text{h}}12^{\text{m}}$, $\delta = -9^{\circ}$?

А) δ Змеи

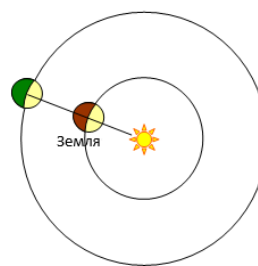
В) β Весов

Б) α Волопаса

Г) δ Скорпиона

2. Как называется конфигурация планет, изображенная на рисунке? В какое время суток можно наблюдать такую конфигурацию?

- А) Соединение. Планета видна на небе всю ночь.
- Б) Восточная квадратура. Планета видна вечером.
- В) Восточная квадратура. Планета видна утром.
- Г) Противостояние. Планета видна на небе всю ночь.



3. Где располагается Солнце на диаграмме «спектр-светимость»?

- А) На главной последовательности
- Б) На последовательности красных гигантов
- В) На последовательности белых карликов
- Г) На последовательности сверхгигантов

4. Какова структура нашей Галактики (согласно классификации Хаббла)?


- А) Эллиптическая
- Б) Неправильная
- В) Линзовидная
- Г) Спиральная




Часть 2

При выполнении заданий с кратким ответом (задания 5-8) необходимо записать ответ в указанном в тексте задания месте.

Ответом к каждому из заданий 5-7 будет некоторая последовательность цифр. В тетради запишите номер вопроса и последовательность цифр – номера выбранных ответов. Каждую цифру пишите в отдельной клеточке.

5. Установите соответствие (логическую пару). К каждому названию созвездия, отмеченному буквой, подберите соответствующее изображение, обозначенное цифрой. Запишите в таблицу выбранные цифры под соответствующими буквами.

НАЗВАНИЕ СОЗВЕЗДИЯ	ИЗОБРАЖЕНИЕ
А. Малая Медведица	1. 
Б. Кассиопея	2.

	
В. Персей	3. 
Г. Лев	4. 

Ответ:

А	Б	В	Г

6. Расположите астрономические величины в порядке их **убывания**. Запишите в таблицу получившуюся последовательность цифр ответа.

- 1) 20 сут
- 2) 300 ч
- 3) 0,6 года
- 4) 600 000 000 с

Ответ:

--	--	--	--

7. Используя таблицу, содержащую сведения о ярких звездах, выполните задание.

Наименование звезды	Температура, К	Масса (в массах Солнца)	Радиус (в радиусах Солнца)	Созвездие, в котором находится звезда
Капелла	5 200	3	2,5	Возничий
Менкалинан (β Возничего А)	9 350	2,7	2,4	Возничий
Денеб	8 550	21	210	Лебедь
Садр	6 500	12	255	Лебедь
Бетельгейзе	3 100	20	900	Орион

Ригель	11 200	40	138	Орион
Альдебаран	3 500	5	45	Телец
Эльнат	14 000	5	4,2	Телец

Выберите **два** утверждения, которые соответствуют характеристикам звезд:

- 1) Звезды Капелла и Менкалинан относятся к одному созвездию, значит находятся на одинаковом расстоянии от Солнца.
- 2) Звезда Денеб является сверхгигантом.
- 3) Звезда Бетельгейзе относится к красным звездам спектрального класса М.
- 4) Звезды Альдебаран и Эльнат имеют одинаковую массу, значит они относятся к одному и тому же спектральному классу.
- 5) Температура на поверхности Ригеля в 2 раза ниже, чем на поверхности Солнца.

Ответ:

Ответом к заданию 8 является число. В тетради запишите номер вопроса и полученный ответ. Каждую цифру пишите в отдельной клеточке. Единицы измерения астрономических величин писать не нужно.

8. Сколько суток продолжается полет космического аппарата до Марса, если он проходит по эллипсу, большая полуось которого равна 1,25 а.е. Ответ округлите до целых.

Ответ: _____ сут.

Часть 3

Для ответа на задания части 3 (задания 9-10) используйте тетрадь для контрольных работ. Запишите сначала номер задания, а затем развернутый ответ на него.

Задание 9 представляет собой вопрос, на который необходимо дать письменный ответ. Полный ответ должен включать в себя не только ответ на вопрос, но и его развернутое логически связанное обоснование. При необходимости сделайте рисунок. Ответ записывайте четко и разборчиво.

9. Какие физические процессы лежат в основе образования облаков на различных планетах?

Для задания 10 необходимо записать полное решение, которое включает запись кратко условия задачи (Дано); рисунок; запись формул, применение которых необходимо и достаточно для решения задачи; а также математические преобразования и расчеты, приводящие к числовому ответу.

10. На Луне с Земли невооруженным взглядом можно различить объекты диаметром 200 км. Определите, какого размера объекты будут видны на Марсе невооруженному взгляду с расстояния 10^6 км. Ответ дайте в км.